

**MINISTERUL EDUCAȚIEI
ȘI CERCETĂRII
AL REPUBLICII MOLDOVA**



Agenția Națională pentru
Curriculum și Evaluare

Numele elevului: _____

Prenumele elevului: _____

Patronimicul elevului: _____

Instituția de învățământ: _____

Localitatea: _____

Raionul / Municipiul: _____

ISTORIA ROMÂNILOR ȘI UNIVERSALĂ

**EXAMEN NAȚIONAL DE ABSOLVIRE A GIMNAZIULUI
SESIUNEA SUPLIMENTARĂ / REPETATĂ**

04 iulie 2024

Timp alocat – 120 de minute

Rechizite și materiale permise: *pix cu cerneală albastră.*

Instrucțiuni pentru candidat:




- Citește cu atenție fiecare item și efectuează operațiile solicitate.
- Lucrează independent.


Îți dorim mult succes!

Numele și prenumele evaluatorului: _____ Punctaj total: _____

SUBIECTUL I (12 puncte)

Studiază fiecare sursă în parte și realizează sarcina propusă.

Nr.	Item	Punctaj	
1	<p>Studiază coperta cărții. Numește un eveniment istoric, care justifică titlul cărții. Argumentează răspunsul.</p> <div style="border-bottom: 1px solid black; margin-bottom: 2px;">_____</div> <div style="border-bottom: 1px solid black; margin-bottom: 2px;">_____</div> <div style="border-bottom: 1px solid black; margin-bottom: 2px;">_____</div> <div style="border-bottom: 1px solid black; margin-bottom: 2px;">_____</div> <div style="border-bottom: 1px solid black; margin-bottom: 2px;">_____</div> <div style="border-bottom: 1px solid black; margin-bottom: 2px;">_____</div> <div style="border-bottom: 1px solid black; margin-bottom: 2px;">_____</div> <div style="border-bottom: 1px solid black; margin-bottom: 2px;">_____</div> <div style="border-bottom: 1px solid black; margin-bottom: 2px;">_____</div> <div style="border-bottom: 1px solid black; margin-bottom: 2px;">_____</div> <div style="border-bottom: 1px solid black; margin-bottom: 2px;">_____</div> <div style="border-bottom: 1px solid black; margin-bottom: 2px;">_____</div> <div style="border-bottom: 1px solid black; margin-bottom: 2px;">_____</div>	<div style="text-align: center;">  <p style="margin-top: 5px;">Inscripție: 1 decembrie 1918. <i>Mărturii ale participanților</i></p> </div>	L 0 1 2 3
2	<p>Studiază harta. Determină o consecință a Pactului Molotov-Ribbentrop pentru Polonia. Argumentează răspunsul.</p> <div style="border-bottom: 1px solid black; margin-bottom: 2px;">_____</div> <div style="border-bottom: 1px solid black; margin-bottom: 2px;">_____</div> <div style="border-bottom: 1px solid black; margin-bottom: 2px;">_____</div> <div style="border-bottom: 1px solid black; margin-bottom: 2px;">_____</div> <div style="border-bottom: 1px solid black; margin-bottom: 2px;">_____</div> <div style="border-bottom: 1px solid black; margin-bottom: 2px;">_____</div> <div style="border-bottom: 1px solid black; margin-bottom: 2px;">_____</div> <div style="border-bottom: 1px solid black; margin-bottom: 2px;">_____</div> <div style="border-bottom: 1px solid black; margin-bottom: 2px;">_____</div> <div style="border-bottom: 1px solid black; margin-bottom: 2px;">_____</div>	<div style="text-align: center;">  <p style="margin-top: 5px;">Harta: Pactul Molotov-Ribbentrop</p> </div>	L 0 1 2 3
3.	<p>Studiază imaginea. Formulează o caracteristică specifică științei și tehnicii contemporane. Argumentează răspunsul.</p> <div style="border-bottom: 1px solid black; margin-bottom: 2px;">_____</div> <div style="border-bottom: 1px solid black; margin-bottom: 2px;">_____</div> <div style="border-bottom: 1px solid black; margin-bottom: 2px;">_____</div> <div style="border-bottom: 1px solid black; margin-bottom: 2px;">_____</div> <div style="border-bottom: 1px solid black; margin-bottom: 2px;">_____</div> <div style="border-bottom: 1px solid black; margin-bottom: 2px;">_____</div> <div style="border-bottom: 1px solid black; margin-bottom: 2px;">_____</div> <div style="border-bottom: 1px solid black; margin-bottom: 2px;">_____</div> <div style="border-bottom: 1px solid black; margin-bottom: 2px;">_____</div> <div style="border-bottom: 1px solid black; margin-bottom: 2px;">_____</div>	<div style="text-align: center;">  <p style="margin-top: 10px;">Neil Armstrong: „Un pas mic pentru om, un salt uriaș pentru omenire”</p> </div>	L 0 1 2 3

4	<p>Studiază moneda. Apreciază rolul personalității date în istoria românilor. Argumentează răspunsul.</p> <hr/> <hr/> <hr/> <hr/> <hr/> <hr/> <hr/> <hr/> <hr/> <hr/>	 <p>Inscripție: <i>Ferdinand I intregitorul</i></p>	<p>L 0 1 2 3</p>
---	---	---	----------------------------------

SUBIECTUL al II-lea (23 de puncte)

Studiază materialul suport și realizează sarcinile propuse.


SURSA A. REPERE CRONOLOGICE

<p>29 iulie – 15 octombrie 1946 – Conferința de Pace de la Paris; 5 iunie 1947 – lansarea Planului Marshall; 25 ianuarie 1949 – crearea Consiliului de Ajutor Economic Reciproc (CAER); 4 aprilie 1949 – crearea Organizației Tratatului Atlanticului de Nord (NATO);</p>	<p>14 mai 1955 – crearea Organizației Tratatului de la Varșovia (OTV); octombrie 1962 – Criza rachetelor din Cuba; 20–21 august 1968 – intervenția sovietică în Cehoslovacia.</p>
--	--

SURSA B.

„Este logic ca Statele Unite ale Americii să facă tot ceea ce le stă în putere pentru a ajuta lumea să-și regăsească sănătatea economică normală, fără de care aceasta nu poate dobândi nici stabilitate politică, nici pace asigurată. Acțiunea noastră nu este îndreptată împotriva nici unei țări, nici unei doctrine, ci împotriva foametei, sărăciei, disperării și haosului. Scopul nostru trebuie să fie renașterea unei economii mondiale sănătoase pentru a permite stabilirea de condiții politice și sociale propice instituțiilor libere. [...] Nu va fi nici oportun, nici eficace ca noi să elaborăm într-un mod unilateral un program destinat să repună Europa pe picioare în domeniul economic. Aceasta este sarcina europenilor. După părerea mea, Europa este cea care trebuie să ia inițiativa, iar rolul Statelor Unite va consta în a furniza ajutor amical pentru redactarea programelor și, apoi, în a susține practic planurile elaborate, în măsura posibilităților.”

(*Planul Marshall, extras din discursul secretarului de stat american la Universitatea Harvard, iunie 1947*)

<p>SURSA C.</p> <p>„O cortină de fier s-a lăsat asupra Europei de la Stettin, la Marea Baltică, până la Triest, la Marea Adriatică. În spatele acestei cortine au rămas toate capitalele statelor din centrul și estul Europei: Varșovia, Berlin, Praga, Viena, Budapesta, Belgrad, București și Sofia. Toate aceste orașe celebre, precum și populația lor se află în sfera de influență sovietică.”</p> <p>(<i>Winston Churchill, discurs rostit la Universitatea din Fulton</i>)</p>	<p>SURSA D.</p> <p>Harta: Cortina de fier</p> 
--	--

Nr.	Item	Punctaj
Utilizează sursa A și cunoștințele obținute anterior.		
1	Numește un fapt istoric, care a pus bazele unei noi ordini internaționale după al Doilea Război Mondial. _____	L 0 1
2	Identifică două blocuri politico-militare create în perioada postbelică. _____	L 0 1 2
Utilizează sursele A, B, C, D și cunoștințele obținute anterior.		
3	Explică termenul <i>cortină de fier</i> . _____ _____	L 0 1 2
4	Identifică în sursa B scopul lansării <i>Planului Marshall</i> de către SUA. Explică răspunsul. _____ _____ _____ _____ _____ _____	L 0 1 2 3 4
5	Descrie câte o consecință a instaurării <i>cortinei de fier</i> pentru: <i>Franța:</i> _____ _____ _____ _____ <i>România:</i> _____ _____ _____	L 0 1 2 3 4
6	Apreciază rolul lui Winston Churchill în istorie. Formulează două argumente. _____ _____ _____ _____ _____ _____ _____ _____	L 0 1 2 3 4 5

7	Exprimă-ți opinia: <i>De ce statele europene au avut un destin diferit după al Doilea Război Mondial?</i> Formulează două argumente.	L
		0
		1
		2
		3
		4
		5

SUBIECTUL al III-lea (15 puncte)

Studiază sursele A-D.

SURSA A.

„Vom închina toate puterile noastre consolidării Unității Naționale. Vom da României întregite Constituția așteptată. Vom face o politică de dreptate socială, asigurând astfel democrației sănătoase liniștea necesară pentru a dezvolta roadele dobândite prin sufragiul universal. Vom desăvârși pentru țărani aplicarea reformei agrare și vom veghea la îmbunătățirea stării lor materiale, culturale și morale.”
(Extras din *Programul Partidului Național Liberal, ianuarie 1922*)

SURSA B.

„Art. 1. - Regatul României este un Stat național unitar și indivizibil.

Art. 7. Deosebirea de credințe religioase și confesiuni, de originea etnică și de limbă, nu constituie în România o piedică spre a dobândi drepturile civile și politice și a le exercita.

Art. 33. Toate puterile Statului emană de la națiune, care nu le poate exercita decât numai prin delegațiune și după principiile și regulile așezate în Constituțiunea de față.”

(Extras din *Constituția României, 1923*)

SURSA C.

”Reforma agrară din 1921 a determinat însemnate modificări în structura proprietății funciare rurale din România. Ca rezultat al traducerii ei în fapt, s-a expropriat, până în anul 1938, de la 18 262 mari proprietari, o suprafață de 5 804 838 ha arabile, fânețe, pășuni, păduri, vii și terenuri necultivabile. Din această întindere, 3 860 353 ha au fost distribuite la împroprietărirea individuală a 1 393 353 țărani, restul întinderii expropriate fiind destinată pentru pășuni și păduri comunale, vetre de sat, rezerve de interes de stat sau obștesc.”

(Dumitru Șandru, *Reforma agrară din 1921 și loturile demonstrative*)

SURSA D.

„Art.5. Învățământul primar este unitar în tot cuprinsul țării.

Art.6. Învățământul primar este obligatoriu și gratuit în condițiile prevăzute de această lege. [...]

Art.7. Învățământul primar în școlile statului se predă în limba română.”

(Extras din *Legea pentru învățământul primar al statului și învățământul normal-primar, 1924*)

Item	Punctaj
Utilizează sursele pentru a argumenta, într-un text coerent, afirmația: <i>Reformele liberale din România interbelică au contribuit la dezvoltarea țării.</i>	

Notă: În elaborarea textului, vei:

- folosi sursele propuse;
- respecta coerența textului cu structura: introducere, cuprins, concluzie;
- formula cel puțin trei argumente;
- utiliza în argumentare referințe cu privire la personalități sau repere cronologice;
- formula un mesaj corect din punct de vedere științific.

L
0
1
2

L
0
1
2
3

L
0
1
2
3
4
5
6
7

L
0
1
2

L
0
1