

**MINISTERUL EDUCAȚIEI
AL REPUBLICII MOLDOVA**



Agencia de Asigurare a Calității

Numele: _____
Prenumele: _____
Patronimicul: _____
Instituția de învățământ: _____

Localitatea: _____

Raionul / Municipiul: _____

ISTORIA ROMÂNILOR ȘI UNIVERSALĂ

**EXAMEN DE ABSOLVIRE A GIMNAZIULUI
SESIUNEA SUPLIMENTARĂ / REPETATĂ**

06 iulie 2015

Timp alocat – 120 de minute

Rechizite și materiale permise: *pix cu cerneală albastră.*

Instrucțiuni pentru candidat:




- Citește cu atenție fiecare item și efectuează operațiile solicitate.
- Lucrează independent.

Îți dorim mult succes!

Numele și prenumele evaluatorului: _____ Punctaj total: _____

SUBIECT I (12 puncte)

Studiază fiecare sursă în parte și realizează sarcina de lucru.

Nr.	Item	Scor																				
1	<p>Formulează, utilizând informația din tabel, o consecință a crizei economice mondiale. Argumentează răspunsul.</p> <hr/> <hr/> <hr/> <hr/> <hr/> <hr/> <hr/> <hr/> <div style="text-align: right; margin-top: 10px;"> <p>Tabel: Producția industriei</p> <table border="1" style="border-collapse: collapse; text-align: center;"> <thead> <tr> <th style="padding: 2px;">Statul</th> <th style="padding: 2px;">1929</th> <th style="padding: 2px;">1930</th> <th style="padding: 2px;">1932</th> <th style="padding: 2px;">1937</th> </tr> </thead> <tbody> <tr> <td style="padding: 2px;">SUA</td> <td style="padding: 2px;">100%</td> <td style="padding: 2px;">81%</td> <td style="padding: 2px;">54%</td> <td style="padding: 2px;">92%</td> </tr> <tr> <td style="padding: 2px;">Germania</td> <td style="padding: 2px;">100%</td> <td style="padding: 2px;">88%</td> <td style="padding: 2px;">58%</td> <td style="padding: 2px;">116%</td> </tr> <tr> <td style="padding: 2px;">M. Britanie</td> <td style="padding: 2px;">100%</td> <td style="padding: 2px;">92%</td> <td style="padding: 2px;">83%</td> <td style="padding: 2px;">124%</td> </tr> </tbody> </table> </div>	Statul	1929	1930	1932	1937	SUA	100%	81%	54%	92%	Germania	100%	88%	58%	116%	M. Britanie	100%	92%	83%	124%	<p>L 0 1 2 3</p>
Statul	1929	1930	1932	1937																		
SUA	100%	81%	54%	92%																		
Germania	100%	88%	58%	116%																		
M. Britanie	100%	92%	83%	124%																		
2	<p>Numește, cu trimitere la afiș, o caracteristică specifică regimurilor totalitare. Argumentează răspunsul.</p> <hr/> <hr/> <hr/> <hr/> <hr/> <hr/> <hr/> <hr/> <div style="text-align: right; margin-top: 10px;">  </div>	<p>L 0 1 2 3</p>																				
3	<p>Numește un eveniment/ fapt istoric din RSSM ce a determinat instalarea acestei plăci comemorative. Argumentează răspunsul.</p> <hr/> <hr/> <hr/> <hr/> <hr/> <hr/> <hr/> <hr/> <div style="text-align: right; margin-top: 10px;">  </div>	<p>L 0 1 2 3</p>																				
4	<p>Formulează, cu trimitere la titlul articolului, o consecință a conflictului militar din stânga Nistrului pentru Republica Moldova. Argumentează răspunsul.</p> <hr/> <hr/> <hr/> <hr/> <hr/> <hr/> <hr/> <hr/> <div style="text-align: right; margin-top: 10px;">  </div>	<p>L 0 1 2 3</p>																				

SUBIECT II (23 puncte)

Studiază materialul suport și realizează sarcinile de lucru.

REPERE CRONOLOGICE (A).

1919: Semnarea Tratatului de la Versailles. 1926: Admiterea Germaniei ca membru permanent al Consiliului Ligii Națiunilor. 1933: Retragera Germaniei de la Conferința privind dezarmarea și din Liga Națiunilor. 1936: Germania ocupă zona Renană demilitarizată.	1936: Semnarea tratatului italo-german (nașterea „Axei”). 1936: Italia invadează Etiopia. 1938: <i>Anschluss-ul</i> , trupele germane „unesc” Austria. 1938: Conferința de la Munchen. Germania obține dreptul de a anexa regiunea Sudetă (Cehoslovacia). 1939: Semnarea Pactului Molotov-Ribbentrop.
--	---

SURSELE B-D.

„După rezolvarea problemei regiunii Sudete, Germania nu mai are nici o revendicare teritorială în Europa.”

(Hitler, după înțelegerea de la Munchen, septembrie 1938)

„[...] De acum încolo, pacea este asigurată pentru generația noastră.”

(N. Chamberlain, primul ministru al Marii Britanii, la sosirea de la Munchen, 30 septembrie 1938)

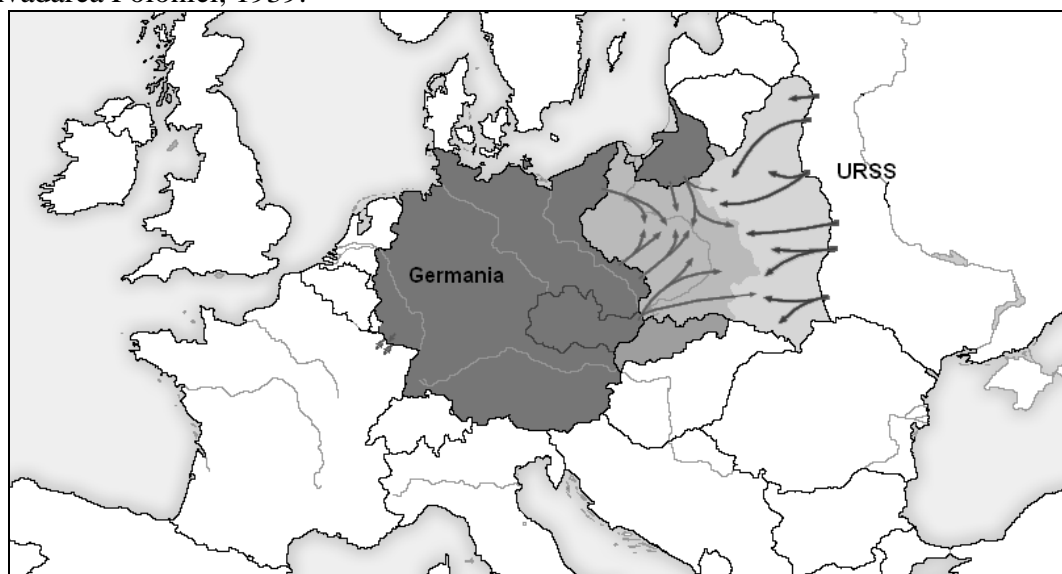
Diagrama „Sondaj de opinie realizat în Marea Britanie în octombrie 1938”.

(După Alan Farmer, *Marea Britanie: politica externă și colonială, 1919-1939*)

Întrebare: *Hitler susține că nu are "Alte pretenții teritoriale în Europa". Îl credeți?*



HARTA: Invadarea Poloniei, 1939.



Nr.	Item	Scor
Studiază reperele cronologice (A).		
1	Identifică două evenimente, din anii '30 ai sec. XX, ce reflectă pretențiile teritoriale ale Germaniei față de un alt stat european. _____ _____	L 0 1 2
2	Numește tratatul care a stabilit hotarele Germaniei după primul război mondial. _____	L 0 1
Valorifică reperele cronologice și cunoștințele anterioare.		
3	Explică cauzele politicii externe agresive a Germaniei, cu trimitere la <i>politica internă</i> ; _____ _____ _____ <i>politica externă/ contextul internațional.</i> _____ _____	L 0 1 2 3 4
4	Explică, oferind ca exemplu Conferința de la Munchen, termenul <i>politică de conciliere</i> . _____ _____ _____	L 0 1 2
Studiază sursele B-D.		
5	Compară opiniile, exprimate în cele trei surse, despre rolul Conferinței de la Munchen în soluționarea problemei pretențiilor teritoriale ale Germaniei. _____ _____ _____ _____ _____ _____	L 0 1 2 3 4 5
Studiază harta și sursele B-D.		
6	Studiază harta. S-au confirmat opiniile despre rolul Conferinței de la Munchen în soluționarea problemei pretențiilor teritoriale germane? Argumentează răspunsul. _____ _____ _____ _____ _____	L 0 1 2 3 4

Item	Scor
<p>Utilizează sursele pentru a argumenta, într-un text coerent, afirmația: <i>Marile Adunări Naționale, de la sfârșitul anilor 80 – începutul anilor 90, contribuie semnificativ la transformările democratice din RSSM/ Republica Moldova.</i></p>	<p>L 0 1 2</p>
<p>Notă: Formulează cel puțin trei argumente.</p>	<p>L 0 1 2 3</p>
<hr/>	<p>L 0 1 2 3</p>
<hr/>	<p>L 0 1 2 3 4 5 6 7</p>
<hr/>	<p>L 0 1 2 3 4 5 6 7</p>
<hr/>	<p>L 0 1 2 3 4 5 6 7</p>
<hr/>	<p>L 0 1 2 3 4 5 6 7</p>
<hr/>	<p>L 0 1 2 3 4 5 6 7</p>
<hr/>	<p>L 0 1 2 3 4 5 6 7</p>
<hr/>	<p>L 0 1 2 3 4 5 6 7</p>
<hr/>	<p>L 0 1 2 3 4 5 6 7</p>
<hr/>	<p>L 0 1 2 3 4 5 6 7</p>
<hr/>	<p>L 0 1 2 3 4 5 6 7</p>
<hr/>	<p>L 0 1 2 3 4 5 6 7</p>
<hr/>	<p>L 0 1 2 3 4 5 6 7</p>
<hr/>	<p>L 0 1 2 3 4 5 6 7</p>
<hr/>	<p>L 0 1 2 3 4 5 6 7</p>
<hr/>	<p>L 0 1 2 3 4 5 6 7</p>
<hr/>	<p>L 0 1 2 3 4 5 6 7</p>
<hr/>	<p>L 0 1 2 3 4 5 6 7</p>

