

**MINISTERUL EDUCAȚIEI  
ȘI CERCETĂRII AL  
REPUBLICII MOLDOVA**

**AGENȚIA NAȚIONALĂ  
PENTRU CURRICULUM ȘI  
EVALUARE**

Район/ Муниципий

Место жительства

Учебное заведение

Фамилия, имя ученика

**ТЕСТ № 2**

**ИСТОРИЯ РУМЫН И ВСЕОБЩАЯ ИСТОРИЯ**

ТРЕНИРОВОЧНЫЙ ТЕСТ  
ГИМНАЗИЧЕСКИЙ ЦИКЛ

февраль, 2023 год

Время выполнения: 120 минут.

Необходимые материалы: *ручка с пастой синего цвета.*

**Памятка для кандидата:**

- Прочитай внимательно и аккуратно выполни каждое задание.
- Работай самостоятельно.




***Желаем успехов!***

Количество баллов \_\_\_\_\_



## ТЕМА I (12 баллов)

Изучи каждый источник в отдельности и выполни предложенные задания.

№	Задание	Баллы
1	<p>Изучи обложку книги. Назови исторический факт, который может быть предложен автором для оправдания названия работы. Аргументируй ответ.</p> <hr/> <hr/> <hr/> <hr/> <hr/> <hr/> <hr/> <hr/> <hr/> <hr/> <hr/> <hr/>	<p>L 0 1 2 3</p>
<div style="text-align: center;">  <p><i>Надпись: Великое объединение, 1918г., Великая Румыния, акты и документы</i></p> </div>		
2	<p>Изучи постер. Сформулируй одну специфическую характеристику межвоенных тоталитарных режимов. Аргументируй ответ.</p> <hr/> <hr/> <hr/> <hr/> <hr/> <hr/> <hr/> <hr/> <hr/> <hr/> <hr/> <hr/>	<p>L 0 1 2 3</p>
<div style="text-align: center;">  <p><i>Надпись: Вперед к победе коммунизма!</i></p> </div>		
3	<p>Изучи почтовую марку. Определи важность события, отраженного в содержании изображения. Аргументируй ответ.</p> <hr/> <hr/> <hr/> <hr/> <hr/> <hr/> <hr/> <hr/> <hr/> <hr/> <hr/> <hr/>	<p>L 0 1 2 3</p>
<div style="text-align: center;">  <p>Изображение Нила Армстронга на почтовой марке Республики Молдова</p> </div>		

4	<p>Изучи герб. Сформулируй одну причину утверждения государственного герба Республики Молдова. Аргументируй ответ.</p> <hr/> <hr/> <hr/> <hr/> <hr/> <hr/> <hr/> <hr/> <hr/> <hr/> <hr/> <hr/>	L 0 1 2 3
---	--	-----------------------



**ТЕМА II (23 балла)**

Изучи опорный материал и выполни предложенные задания.

**ТЕРМИН:** Версальская система – новый международный порядок, созданный государствами-победителями после Первой мировой войны посредством подписания мирных договоров с побежденными странами.

**ИСТОЧНИК А. ХРОНОЛОГИЯ**

1919: основание Лиги Наций 1919: мирный договор с Австрией (Сан-Жерменский) 1920: мирный договор с Венгрией (Трианон) 1932: Запуск программы «Новый курс» 1933: назначение Гитлера канцлером Германии	1935: введение Гитлером обязательной военной службы 1936: подписание Антикоминтерновского пакта 1938: аннексия Австрии («Anschluss») 1939: советско-германский договор о ненападении
---	---

**ИСТОЧНИК Б.**

« Ст. 80, 81, 87: Германия признает независимость и границы Австрии, Чехословакии, Польши.

Ст. 119: Германия отказывается от своих прав на колонии.

Ст. 160: Общий численный состав армии Германии не должен превышать 100 000 человек.

Ст. 173: Упраздняется всеобщая обязательная военная служба.

Ст. 198: Военные силы Германии не должны содержать ни военной авиации, ни военного морского флота.

Ст. 231: Германия признает, что она и ее союзники несут ответственность за все потери и жертвы».

**(Выдержки из Версальского договора, 28 июня 1919 г.)**

**ИСТОЧНИК В.**

**ИСТОЧНИК Г.**



№	Задание	Баллы
1	<p>Выяви в источнике А два договора, являющиеся компонентами Версальской системы.</p> <p>_____</p> <p>_____</p>	<p>L</p> <p>0</p> <p>1</p> <p>2</p>
<b>Используй источник Б и предшествующие знания.</b>		
2	<p>Объясни понятие <i>договор</i>.</p> <p>_____</p> <p>_____</p> <p>_____</p>	<p>L</p> <p>0</p> <p>1</p> <p>2</p>
<b>Используй источник Б и предшествующие знания.</b>		
3	<p>Опиши контекст, в котором был подписан Версальский договор 28 июня 1919г.</p> <p>_____</p> <p>_____</p> <p>_____</p>	<p>L</p> <p>0</p> <p>1</p> <p>2</p>
4	<p>Объясни последствия договора для развития Германии в плане:</p> <p>- <i>экономическом</i>: _____</p> <p>_____</p> <p>_____</p> <p>_____</p> <p>- <i>политическом</i>: _____</p> <p>_____</p> <p>_____</p>	<p>L</p> <p>0</p> <p>1</p> <p>2</p> <p>3</p> <p>4</p>
<b>Используй источники В и Г и предшествующие знания.</b>		
5	<p>Продемонстрируй, что политическая карта Европы, в соответствии с Версальской системой, претерпела существенные изменения. Приведи примеры со ссылкой на:</p> <p><i>Румынию</i>: _____</p> <p>_____</p> <p>_____</p> <p><i>Польшу</i>: _____</p> <p>_____</p> <p>_____</p>	<p>L</p> <p>0</p> <p>1</p> <p>2</p> <p>3</p> <p>4</p>
<b>Используй источники и предшествующие знания.</b>		
6	<p>Выяви среди предложенных хронологических ориентиров два события, которые отражают нарушение Версальской системы со стороны Германии. Аргументируй ответ.</p> <p>1. _____</p> <p>_____</p> <p>_____</p> <p>2. _____</p> <p>_____</p> <p>_____</p>	<p>L</p> <p>0</p> <p>1</p> <p>2</p> <p>3</p> <p>4</p>

7	<p>Оцени роль Версальской системы в сохранении мира. Сформулируй два аргумента.</p> <hr/> <hr/> <hr/> <hr/> <hr/> <hr/> <hr/> <hr/> <hr/> <hr/>	L 0 1 2 3 4 5
---	---	---------------------------------

### ТЕМА III (15 баллов)

Изучи источники А-В

ИСТОЧНИК А.

«Она одна из известных оперных певиц, прославившихся и на экране. И одна из немногих актрис кино, способных переводить роли на разные языки... Фильмы сняты в немецкой, итальянской, румынской версии... Голоса партнеров озвучены на разных языках... и только Мария Чеботарь остаётся во всех версиях. У неё очень развитое чувство языков и незаурядный талант».


**(Карл Шеневаль, признанный эксперт в области киноискусства,  
<https://www.moldpres.md/news/2021/07/09/21004907>)**

ИСТОЧНИК Б.

«Константин Брынкушь с самого начала искал свой собственный путь в искусстве, и необычайная художественная энергия его стиля обусловлена этим постоянным стремлением быть самим собой. Пик его творчества приходится на четвертое десятилетие, его произведения входят в великие художественные собрания мира. Его скульптуры отличаются элегантностью форм и деликатным использованием материалов, сочетая простоту румынского народного искусства с изысканностью парижского авангарда. Вся его деятельность представляет собой ценный вклад в национальную и мировую культуру, вклад, который показывает его румынскую человечность и его универсальную гениальность».

**(Анжела Хабашеску, К. Бранкушь и преобразование мечты через скульптуру)**

ИСТОЧНИК В.



Задание	Баллы
<p>Используй источники для аргументации, в связном тексте, следующего утверждения: <i>Вся их деятельность является ценным вкладом в национальную и мировую культуру.</i></p> <p>Примечание: Сформулируй, по меньшей мере, три аргумента.</p>	L 0 1 2
_____	L
_____	0
_____	1
_____	2
_____	3
_____	L
_____	0
_____	1
_____	2
_____	3
_____	4
_____	5
_____	6
_____	7
_____	L
_____	0
_____	1
_____	2
_____	L
_____	0
_____	1
_____	
_____	
_____	
_____	
_____	
_____	
_____	