

МИНИСТЕРСТВО ОБРАЗОВАНИЯ
И ИССЛЕДОВАНИЙ
РЕСПУБЛИКИ МОЛДОВА

НАЦИОНАЛЬНОЕ АГЕНТСТВО
ПО КУРРИКУЛУМУ
И ОЦЕНИВАНИЮ

Фамилия: _____

Имя: _____

Учебное заведение: _____

М

Д

МАТЕМАТИКА

НАЦИОНАЛЬНОЕ ТЕСТИРОВАНИЕ В НАЧАЛЬНОМ ОБРАЗОВАНИИ

17 мая 2024 года

Время выполнения: **60 минут**

Необходимые материалы: **ручка с пастой синего цвета, линейка.**

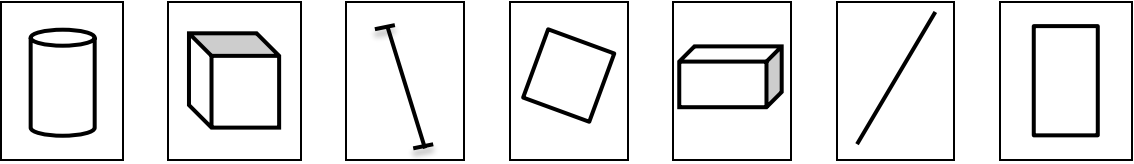



Памятка для ученика:

- Впиши фамилию и имя в специально отведённый квадратик.
- Прочитай внимательно текст и аккуратно выполни предложенные задания.
- Работай самостоятельно.
- Используй эффективно время, отведённое для выполнения теста.

Желаем успеха!

Фамилия и имя проверяющего: _____ Количество баллов _____

Показатель качества _____

6.	<p>Укажи стрелкой рисунок, на котором изображён:</p> <p> <input type="checkbox"/> квадрат <input type="checkbox"/> куб <input type="checkbox"/> цилиндр <input type="checkbox"/> отрезок </p> 	L01 L01 L01 L01				
7.	<p>Вычисли в столбик.</p> <p>а) $20\ 391 - 7\ 586$</p>  <p>б) $50 \times 6\ 840$</p>  <p>в) $62\ 450 : 8$</p> 	L012 L012 L012				
8.	<p>Впиши в рамки пропущенные числа.</p> <p> $209 + \boxed{} = 209\ 209$ $\boxed{} - 4\ 000 = 800\ 075$ </p>	L02 L02				
9.	<p>Выяви правило составления ряда. Впиши в рамку следующее число.</p> <table border="1" data-bbox="304 1738 1272 1798"> <tr> <td style="text-align: center;">8</td> <td style="text-align: center;">40</td> <td style="text-align: center;">200</td> <td style="text-align: center;"><input type="text"/></td> </tr> </table>	8	40	200	<input type="text"/>	L02
8	40	200	<input type="text"/>			
10.	<p>Впиши в каждый кружок соответствующий знак сравнения (<, =, >).</p> <p> 1 м ○ 1000 мм 1000 лет ○ 1 век 1 т ○ 10000 кг </p>	L01 L01 L01				

