

**MINISTERUL EDUCAȚIEI
ȘI CERCETĂRII
AL REPUBLICII MOLDOVA**

**AGENȚIA NAȚIONALĂ
PENTRU CURRICULUM ȘI
EVALUARE**

Raionul

Localitatea

Instituția de învățământ

Numele, prenumele elevului

TESTUL Nr. 2

MATEMATICA

**TEST PENTRU EXERSARE
ÎNVĂȚĂMÂNTUL PRIMAR**

februarie 2022

Timp alocat – 60 de minute






Rechizite și materiale permise: pix cu cerneală albastră, riglă.

Instrucțiuni pentru elevi:

- Citește cu atenție fiecare enunț și efectuează cu acuratețe operațiile solicitate.
- Lucrează independent.

Îți dorim mult succes!

Numele și prenumele evaluatorului: _____ Total puncte _____

1.	<p>Care este cel mai mare dintre numerele de mai jos? Încercuiește litera corespunzătoare răspunsului corect.</p> <p>A. 2 900 B. 290 C. 29 000 D. 20 900</p>	L01								
2.	<p>Care dintre numerele de mai jos are cifra 0 la zeci de mii? Încercuiește litera corespunzătoare răspunsului corect.</p> <p>A. 340 680 B. 403 068 C. 432 008 D. 46 300</p>	L01								
3.	<p>În care dintre exercițiile de mai jos pot fi omise parantezele? Încercuiește litera corespunzătoare răspunsului corect.</p> <p>A. $200 - (56 + 8)$ B. $(200 - 56) \times 8$ C. $200 + (56 : 8)$</p>	L01								
4.	<p>Indică prin săgeată operația care trebuie efectuată pentru a afla:</p> <table style="width: 100%; border: none;"> <tbody> <tr> <td style="background-color: #cccccc; padding: 5px;">• numărul cu 3 mai mic decât 15</td> <td style="background-color: #cccccc; padding: 5px; text-align: center;">$15 + 3$</td> </tr> <tr> <td style="background-color: #cccccc; padding: 5px;">• o treime din 15</td> <td style="background-color: #cccccc; padding: 5px; text-align: center;">$15 - 3$</td> </tr> <tr> <td style="background-color: #cccccc; padding: 5px;">• triplul numărului 15</td> <td style="background-color: #cccccc; padding: 5px; text-align: center;">15×3</td> </tr> <tr> <td></td> <td style="background-color: #cccccc; padding: 5px; text-align: center;">$15 : 3$</td> </tr> </tbody> </table>	• numărul cu 3 mai mic decât 15	$15 + 3$	• o treime din 15	$15 - 3$	• triplul numărului 15	15×3		$15 : 3$	L01 L01 L01
• numărul cu 3 mai mic decât 15	$15 + 3$									
• o treime din 15	$15 - 3$									
• triplul numărului 15	15×3									
	$15 : 3$									
5.	<p>Indică prin săgeată forma geometrică cu care se aseamănă fiecare obiect:</p> <div style="display: flex; justify-content: space-around; align-items: center; text-align: center;">      </div> <p style="text-align: center; margin-top: 20px;"> pătrat dreptunghi triunghi cerc sferă cub cuboid </p>	L01 L01 L01 L01 L01								

