

**MINISTERUL EDUCAȚIEI
AL REPUBLICII MOLDOVA**

**AGENȚIA NAȚIONALĂ
PENTRU CURRICULUM ȘI
EVALUARE**

Район/ Муниципий

Место жительства

Учебное заведение

Фамилия, имя ученика

ТЕСТ № 2

МАТЕМАТИКА

ТРЕНИРОВОЧНЫЙ ТЕСТ НАЧАЛЬНОЕ ОБРАЗОВАНИЕ

февраль 2017 года
Время выполнения – 60 минут

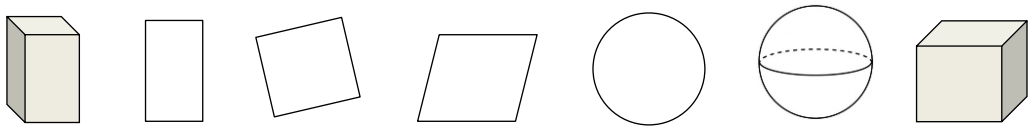
Необходимые материалы: ручка с пастой синего цвета, линейка.



Памятка для ученика:

- Прочитай внимательно текст и аккуратно выполни предложенные задания.
 - Работай самостоятельно.
-

Желаем успеха!

Математика, 4 класс. Тест 2

1.	<p>Какое из данных ниже чисел состоит из 2 тысяч и 14 десятков? Обведи букву, соответствующую правильному ответу.</p> <p style="text-align: center;"> A. 200 014 B. 2 014 C. 2 140 D. 3 400 </p>	L_()
2.	<p>Какое из данных ниже чисел является наименьшим? Обведи букву, соответствующую правильному ответу.</p> <p style="text-align: center;"> A. 86 504 B. 860 504 C. 80 540 D. 80 054 </p>	L_()
3.	<p>Какое из действий надо выполнить последним, чтобы решить пример: $200 - 200 : (40 + 60) = ?$ Обведи букву, соответствующую правильному ответу.</p> <p style="text-align: center;"> A. сложение B. вычитание C. умножение D. деление </p>	L_()
4.	<p>Рассмотри внимательно каждый пример на деление, данный ниже. Обведи букву И, если считаешь, что вычисление верное, или букву Л, если считаешь, что вычисление неверное.</p> <ul style="list-style-type: none"> • $0 : 5 = 0$ И Л • $44 : 6 = 7, \text{ ост. } 2$ И Л • $3 : 8 = 0, \text{ ост. } 8$ И Л 	L01 L01 L01
5.	<p>Прочитай внимательно каждое предложение, записанное ниже. Обведи букву И, если считаешь его истинным, или букву Л, если считаешь его ложным.</p> <ul style="list-style-type: none"> • 50 секунд составляют половину минуты. И Л • Если сейчас девять часов утра, значит через 24 часа будет девять часов вечера. И Л • Глубину стакана можно измерить линейкой. И Л • Массу ведра с водой можно выразить в килограммах. И Л 	L01 L01 L01 L01
6.	<p>Укажи стрелками каждую из геометрических форм, названных ниже.</p> <p style="text-align: center;"> квадрат куб параллелепипед круг сфера </p> <div style="text-align: center; margin-top: 20px;">  </div>	L01 L01 L01 L01 L01

7.	<p>Вычисли в столбик. Запиши каждый ответ в отведённой для этого рамке.</p> <p>а) $11\ 014 - 928 =$ <input type="text"/></p> <p>б) $80 \times 309 =$ <input type="text"/></p>  <p>в) $56\ 042 : 6 =$ <input type="text"/></p> 	L012 L012 L012				
8.	<p>Дополни примеры пропущенными числами.</p> <p><input type="text"/> : 800 = 800 <input type="text"/> - 1 505 = 505</p>	L02 L02				
9.	<p>Определи правило составления числового ряда. Запиши в отведённой рамке следующее число.</p> <table border="1" data-bbox="403 1395 1134 1451"> <tr> <td>1 000 000</td> <td>10 000</td> <td>100</td> <td><input type="text"/></td> </tr> </table>	1 000 000	10 000	100	<input type="text"/>	L02
1 000 000	10 000	100	<input type="text"/>			
10.	<p>Сравни. Запиши в каждый кружок соответствующий знак (<, =, >).</p> <p>100 м ○ 1 км 1 век ○ 1 десятилетие 1 м 1 см ○ 11 см</p>	L0123				

