

**MINISTERUL EDUCAȚIEI
ȘI CERCETĂRII
AL REPUBLICII MOLDOVA**

**AGENȚIA NAȚIONALĂ
PENTRU CURRICULUM ȘI
EVALUARE**

Raionul

Localitatea

Instituția de învățământ

Numele, prenumele elevului

TESTUL Nr. 2

MATEMATICA

**TEST PENTRU EXERSARE
ÎNVĂȚĂMÂNTUL PRIMAR**

februarie 2023

Timp alocat – 60 de minute

Rechizite și materiale permise: pix cu cerneală albastră, riglă.





Instrucțiuni pentru elevi:

- Citește cu atenție fiecare enunț și efectuează cu acuratețe operațiile solicitate.
- Lucrează independent.

Îți dorim mult succes!

Total puncte _____

1.	<p>Cum se citește numărul 101 100?</p> <p>Încercuiește litera corespunzătoare răspunsului corect.</p> <p>A. o sută unsprezece mii C. zece mii o sută zece</p> <p>B. o sută una mii o sută D. zece mii unsprezece</p>	L01								
2.	<p>Care dintre numerele de mai jos este par?</p> <p>Încercuiește litera corespunzătoare răspunsului corect.</p> <p>A. 88 043 B. 2 805 C. 73 150 D. 222 601</p>	L01								
3.	<p>Ana și Maria au rezolvat exercițiul: $5 \times 89 \times 2 = ?$</p> <p>Ambele fete au rezolvat corect, dar au ales moduri diferite de calcul.</p> <p>Încercuiește prenumele fetei care a calculat în cel mai rațional mod.</p> <table border="1" data-bbox="219 1123 1388 1270" style="width: 100%; border-collapse: collapse;"> <thead> <tr> <th style="text-align: center; padding: 5px;">Ana</th> <th style="text-align: center; padding: 5px;">Maria</th> </tr> </thead> <tbody> <tr> <td style="padding: 5px;">1) $5 \times 2 = 10$;</td> <td style="padding: 5px;">1) $5 \times 89 = 445$;</td> </tr> <tr> <td style="padding: 5px;">2) $10 \times 89 = 890$.</td> <td style="padding: 5px;">2) $445 \times 2 = 890$.</td> </tr> </tbody> </table>	Ana	Maria	1) $5 \times 2 = 10$;	1) $5 \times 89 = 445$;	2) $10 \times 89 = 890$.	2) $445 \times 2 = 890$.	L01		
Ana	Maria									
1) $5 \times 2 = 10$;	1) $5 \times 89 = 445$;									
2) $10 \times 89 = 890$.	2) $445 \times 2 = 890$.									
4.	<p>Indică prin săgeată operația care trebuie efectuată pentru a afla:</p> <table border="0" data-bbox="219 1333 1388 1585" style="width: 100%; border-collapse: collapse;"> <tbody> <tr> <td style="padding: 5px;">• dublul numărului 46</td> <td style="padding: 5px;">$46 + 2$</td> </tr> <tr> <td style="padding: 5px;">• numărul cu 46 mai mare decât 2</td> <td style="padding: 5px;">$46 - 2$</td> </tr> <tr> <td style="padding: 5px;">• de câte ori numărul 46 este mai mare decât 2</td> <td style="padding: 5px;">46×2</td> </tr> <tr> <td></td> <td style="padding: 5px;">$46 : 2$</td> </tr> </tbody> </table>	• dublul numărului 46	$46 + 2$	• numărul cu 46 mai mare decât 2	$46 - 2$	• de câte ori numărul 46 este mai mare decât 2	46×2		$46 : 2$	L01 L01 L01
• dublul numărului 46	$46 + 2$									
• numărul cu 46 mai mare decât 2	$46 - 2$									
• de câte ori numărul 46 este mai mare decât 2	46×2									
	$46 : 2$									
5.	<p>Citește cu atenție fiecare propoziție. Încercuiește litera A, dacă o consideri adevărată, sau litera F, dacă o consideri falsă</p> <ul style="list-style-type: none"> • Luna aprilie are 31 de zile. A F • În Republica Moldova sunt puse în circulație monede de 25 de bani. A F • Un borcan poate avea capacitatea de 3 litri. A F • Un kilogram de puf este mai ușor decât un kilogram de fier. A F 	L01 L01 L01 L01								

6.	<p>Indică printr-o săgeată desenul corespunzător fiecărei forme geometrice:</p> <p>pătrat cub segment cerc triunghi</p> 	L01 L01 L01 L01 L01				
7.	<p>Calculează în coloniță.</p> <p>a) $100\ 116 - 8\ 507$</p>  <p>b) 600×670</p>  <p>c) $40\ 060 : 8$</p> 	L012 L012 L012				
8.	<p>Completează cu numerele care lipsesc.</p> <p><input type="text"/> + 32 = 32 032 25 075 - <input type="text"/> = 20 005</p>	L02 L02				
9.	<p>Descoperă regula de formare a șirului. Scrie numărul următor în caseta rezervată.</p> <table border="1" data-bbox="324 1591 1282 1654"> <tr> <td>1 000 000</td> <td>100 000</td> <td>10 000</td> <td><input type="text"/></td> </tr> </table>	1 000 000	100 000	10 000	<input type="text"/>	L02
1 000 000	100 000	10 000	<input type="text"/>			
10.	<p>Scrie în fiecare cerc semnul de comparație corespunzător (<, =, >).</p> <p>1 m ○ 100 cm 1 000 ani ○ 1 secol 10 lei ○ 1 000 bani</p>	L0123				

