

**MINISTERUL EDUCAȚIEI
AL REPUBLICII MOLDOVA**

**AGENȚIA NAȚIONALĂ
PENTRU CURRICULUM ȘI
EVALUARE**

Район/ Муниципий

Место жительства

Учебное заведение

Фамилия, имя ученика

ТЕСТ № 1

МАТЕМАТИКА

ТРЕНИРОВОЧНЫЙ ТЕСТ НАЧАЛЬНОЕ ОБРАЗОВАНИЕ

февраль 2017 года
Время выполнения – 60 минут



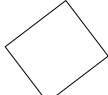

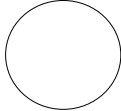
Необходимые материалы: ручка с пастой синего цвета, линейка.




Памятка для ученика:

- Прочитай внимательно текст и аккуратно выполни предложенные задания.
 - Работай самостоятельно.
-

Желаем успеха!

Математика, 4 класс. Тест 1

1.	<p>Как записывается цифрами число <i>четырна́дцать тысяч шестьдесят</i>? Обведи букву, соответствующую правильному ответу.</p> <p>A. 1 460 B. 14 600 C. 140 060 D. 14 060</p>	L _ ()
2.	<p>Какое число является последующим для числа 100 000? Обведи букву, соответствующую правильному ответу.</p> <p>A. 1 000 000 B. 100 001 C. 200 000 D. 99 999</p>	L _ ()
3.	<p>Каким по счёту нужно выполнить действие умножения в примере: $300 : 5 \times (4 + 8) = ?$ Обведи букву, соответствующую правильному ответу.</p> <p>A. <i>первым</i> B. <i>вторым</i> C. <i>третьим</i> D. <i>четвёртым</i></p>	L _ ()
4.	<p>Рассмотри внимательно каждый пример на деление, записанный ниже. Обведи букву И, если считаешь, что вычисление верное, или букву Л, если считаешь, что вычисление неверное.</p> <ul style="list-style-type: none"> • $2 : 0 = 0$ И Л • $51 : 7 = 6, \text{ ост. } 9$ И Л • $3 : 4 = 0, \text{ ост. } 3$ И Л 	L01 L01 L01
5.	<p>Прочитай внимательно каждое предложение, записанное ниже. Обведи букву И, если считаешь его истинным, или букву Л, если считаешь его ложным.</p> <ul style="list-style-type: none"> • <i>Половина минуты составляет 15 секунд.</i> И Л • <i>С 23 часов 45 минут до окончания суток остаётся четверть часа.</i> И Л • <i>Количество сахара, вместившегося в ложку, можно измерить с помощью электронных весов.</i> И Л • <i>Массу бочки с водой можно выразить в литрах.</i> И Л 	L01 L01 L01 L01
6.	<p>Укажи стрелкой название каждой геометрической формы, нарисованной ниже.</p> <div style="display: flex; justify-content: space-around; align-items: center; text-align: center;"> <div style="margin: 10px;"></div> <div style="margin: 10px;"></div> <div style="margin: 10px;"></div> <div style="margin: 10px;"></div> <div style="margin: 10px;"></div> </div> <p>квадрат прямоугольник куб параллелепипед круг сфера</p>	L01 L01 L01 L01 L01

7.	<p>Вычисли в столбик. Запиши каждый ответ в отведённой для этого рамке.</p> <p>а) $10\,035 - 2\,928 =$ <input type="text"/> б) $60 \times 807 =$ <input type="text"/></p> <div style="display: flex; justify-content: space-around; align-items: flex-start;"> <div style="text-align: center;">  </div> <div style="text-align: center;">  </div> </div> <p>в) $42\,017 : 5 =$ <input type="text"/></p> <div style="text-align: center;">  </div>	L012 L012 L012												
8.	<p>Дополни таблицы соответствующими числами.</p> <table style="width: 100%; border-collapse: collapse;"> <tbody> <tr> <td style="border: 1px solid black; padding: 5px;">Множитель</td> <td style="border: 1px solid black; padding: 5px; text-align: center;">2 000</td> <td style="border: 1px solid black; padding: 5px;">Уменьшаемое</td> <td style="border: 1px solid black; padding: 5px;"></td> </tr> <tr> <td style="border: 1px solid black; padding: 5px;">Множитель</td> <td style="border: 1px solid black; padding: 5px;"></td> <td style="border: 1px solid black; padding: 5px;">Вычитаемое</td> <td style="border: 1px solid black; padding: 5px; text-align: center;">1 505</td> </tr> <tr> <td style="border: 1px solid black; padding: 5px;">Произведение</td> <td style="border: 1px solid black; padding: 5px; text-align: center;">50 000</td> <td style="border: 1px solid black; padding: 5px;">Разность</td> <td style="border: 1px solid black; padding: 5px; text-align: center;">1 505</td> </tr> </tbody> </table>	Множитель	2 000	Уменьшаемое		Множитель		Вычитаемое	1 505	Произведение	50 000	Разность	1 505	L02 L02
Множитель	2 000	Уменьшаемое												
Множитель		Вычитаемое	1 505											
Произведение	50 000	Разность	1 505											
9.	<p>Определи правило составления числового ряда. Запиши следующее число.</p> <table style="margin-left: auto; margin-right: auto; border-collapse: collapse;"> <tbody> <tr> <td style="border: 1px solid black; padding: 5px; text-align: center;">210</td> <td style="border: 1px solid black; padding: 5px; text-align: center;">3 210</td> <td style="border: 1px solid black; padding: 5px; text-align: center;">43 210</td> <td style="border: 1px solid black; padding: 5px; text-align: center;"> </td> </tr> </tbody> </table>	210	3 210	43 210		L02								
210	3 210	43 210												
10.	<p>Трое друзей измерили свой рост: Дан – 150 см; Раду – 1 м 53 см; Ион – 1 м 3 дм 5 см. Дополни предложение соответствующими именами детей: <i>..... самый высокий, а самый низкий из трёх друзей.</i></p>	L012												

