

**MINISTERUL EDUCAȚIEI,
CULTURII ȘI CERCETĂRII
AL REPUBLICII MOLDOVA**

**AGENȚIA NAȚIONALĂ
PENTRU CURRICULUM ȘI
EVALUARE**

Raionul

Localitatea

Instituția de învățământ

Numele, prenumele elevului

TESTUL Nr. 1

MATEMATICA

**TEST PENTRU EXERSARE
ÎNVĂȚĂMÂNTUL PRIMAR**

februarie 2021
Timp alocat – 60 de minute





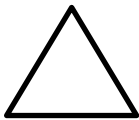
Rechizite și materiale permise: pix cu cerneală albastră, riglă.

Instrucțiuni pentru elevi:

- Citește cu atenție fiecare enunț și efectuează cu acuratețe operațiile solicitate.
- Lucrează independent.

Îți dorim mult succes!

Numele și prenumele evaluatorului: _____ Total puncte _____

1.	<p>Cum se scrie cu litere numărul 1837 ? Încercuiește litera corespunzătoare răspunsului corect.</p> <p>A. o mie opt sute treizeci și șase B. o mie opt sute treizeci și șapte C. o mie opt sute șapte D. o mie opt sute treizeci</p>	L01
2.	<p>Care dintre următoarele numere este par ? Încercuiește litera corespunzătoare răspunsului corect.</p> <p>A. 90 501 B. 900 562 C. 9 565 D. 905 007</p>	L01
3.	<p>Încercuiește litera care indică prima operație în următorul exercițiu: $2500 - (46\,400 : 4) \times 3$.</p> <p>A. Scăderea B. Adunarea C. Împărțirea D. Înmulțirea</p>	L01
4.	<p>Unește printr-o săgeată fiecare rând din prima coloană cu cuvântul respectiv din coloana a doua, astfel încât să obții enunțuri corecte.</p> <ul style="list-style-type: none"> • Rezultatul împărțirii se numește • Rezultatul adunării se numește • Numerele care se înmulțesc se numesc 	<p>L01</p> <p>L01</p> <p>L01</p> <p>sumă cât factori termeni</p>
5.	<p>Indică printr-o săgeată fiecare figură geometrică cu denumirea sa.</p> <div style="display: flex; justify-content: space-around; align-items: center;"> <div style="text-align: center;">  dreptunghi </div> <div style="text-align: center;">  Cerc </div> <div style="text-align: center;">  pătrat </div> <div style="text-align: center;">  linie frântă deschisă </div> <div style="text-align: center;">  triunghi </div> </div> <p style="margin-top: 10px;">segment</p>	<p>L01</p> <p>L01</p> <p>L01</p> <p>L01</p> <p>L01</p>

