

МИНИСТЕРСТВО ПРОСВЕЩЕНИЯ
РЕСПУБЛИКИ МОЛДОВА

**НАЦИОНАЛЬНОЕ АГЕНТСТВО
ПО КУРРИКУЛУМУ
И ОЦЕНИВАНИЮ**

Фамилия: _____

Имя: _____

Учебное заведение: _____

М

Д

МАТЕМАТИКА

НАЦИОНАЛЬНОЕ ТЕСТИРОВАНИЕ В НАЧАЛЬНОМ ОБРАЗОВАНИИ

11 мая 2017 года

Время выполнения: **60 минут**

Необходимые материалы: **ручка с пастой синего цвета, линейка.**

Памятка для ученика:

- Запиши фамилию и имя в специально отведённый квадратик.
- Прочитай внимательно текст и аккуратно выполни предложенные задания.
- Работай самостоятельно.
- Используй эффективно время, отведённое для выполнения теста.






Желаем успеха!

Фамилия и имя проверяющего: _____ Количество баллов _____

Оценка _____

1.	<p>Как записывается цифрами число <i>сто одна тысяча один</i>?</p> <p>Обведи букву, соответствующую верному ответу.</p> <p>A. 100 101 B. 100 001 C. 101 001 D. 101 100</p>	L_()
2.	<p>Какое число является предшествующим для числа 10 010?</p> <p>Обведи букву, соответствующую верному ответу.</p> <p>A. 9 010 B. 10 011 C. 9 009 D. 10 009</p>	L_()
3.	<p>Рассмотри пример:</p> <p style="text-align: center;">500 : 5 - (5 + 50) = ?</p> <p>Какое действие нужно выполнить в последнюю очередь?</p> <p>Обведи букву, соответствующую верному ответу.</p> <p>A. сложение B. вычитание C. умножение D. деление</p>	L_()
4.	<p>Рассмотри внимательно каждое из следующих вычислений.</p> <p>Обведи слово Да, если считаешь вычисление верным, а если считаешь его ошибочным, обведи слово Нет.</p> <ul style="list-style-type: none"> • 429 × 0 × 1 = 429 Да Нет • 55 : 6 = 8, ост. 7 Да Нет • $\frac{2}{3}$ от 6 = 6 : 3 × 2 Да Нет • 9 × (30 + 8) = 9 × 30 + 9 × 8 Да Нет 	L01 L01 L01 L01
5.	<p>Прочитай внимательно каждое из следующих утверждений.</p> <p>Обведи букву И, если считаешь утверждение истинным, а если считаешь его ложным, обведи букву Л.</p> <ul style="list-style-type: none"> • <i>5 000 кг составляют половину тонны.</i> И Л • <i>Массу коробки сока можно выразить в литрах.</i> И Л • <i>Если сейчас 22 часа 45 минут, то до окончания суток остаётся час с четвертью.</i> И Л 	L01 L01 L01

6. Укажи стрелкой название каждой из следующих геометрических форм:

квадрат прямоугольник треугольник куб параллелепипед цилиндр конус

L01
L01
L01
L01
L01

7. Вычисли в столбик.

а) 11 003 – 4 956

б) 80 × 526

в) 45 520 : 7

L012
L012

L012

8. Дополни таблицы соответствующими числами.

<table border="1" style="border-collapse: collapse; width: 100%;"> <tr><td>Уменьшаемое</td><td> </td></tr> <tr><td>Вычитаемое</td><td>800</td></tr> <tr><td>Разность</td><td>5 600</td></tr> </table>	Уменьшаемое		Вычитаемое	800	Разность	5 600	<table border="1" style="border-collapse: collapse; width: 100%;"> <tr><td>Множитель</td><td> </td></tr> <tr><td>Множитель</td><td>800</td></tr> <tr><td>Произведение</td><td>5 600</td></tr> </table>	Множитель		Множитель	800	Произведение	5 600
Уменьшаемое													
Вычитаемое	800												
Разность	5 600												
Множитель													
Множитель	800												
Произведение	5 600												

L02
L02

9. Выяви правило составления ряда.
Впиши в рамку соответствующее число.

	950	1 500	2 050
--	-----	-------	-------

L02

10. Двое друзей измерили свой рост:
Тудор – 1 м 600 мм; Михай – 16 дм 5 см.
Запиши имя самого высокого из них: _____

L01

11.	<p><i>В школьном конкурсе участвовали 82 учащихся. Девочек было на 6 больше, чем мальчиков. Сколько мальчиков и сколько девочек участвовало в конкурсе?</i></p> <p style="text-align: center;">Графическая схема задачи:</p> <table border="1" style="width: 100%; height: 100px;"> <tr><td></td><td></td><td></td><td></td><td></td><td></td><td></td><td></td><td></td><td></td><td></td><td></td><td></td><td></td><td></td><td></td><td></td><td></td><td></td><td></td><td></td><td></td><td></td><td></td><td></td><td></td></tr> <tr><td></td><td></td><td></td><td></td><td></td><td></td><td></td><td></td><td></td><td></td><td></td><td></td><td></td><td></td><td></td><td></td><td></td><td></td><td></td><td></td><td></td><td></td><td></td><td></td><td></td><td></td></tr> <tr><td></td><td></td><td></td><td></td><td></td><td></td><td></td><td></td><td></td><td></td><td></td><td></td><td></td><td></td><td></td><td></td><td></td><td></td><td></td><td></td><td></td><td></td><td></td><td></td><td></td><td></td></tr> <tr><td></td><td></td><td></td><td></td><td></td><td></td><td></td><td></td><td></td><td></td><td></td><td></td><td></td><td></td><td></td><td></td><td></td><td></td><td></td><td></td><td></td><td></td><td></td><td></td><td></td><td></td></tr> </table> <p style="text-align: center;">Решение с пояснением:</p> <table border="1" style="width: 100%; height: 100px;"> <tr><td></td><td></td><td></td><td></td><td></td><td></td><td></td><td></td><td></td><td></td><td></td><td></td><td></td><td></td><td></td><td></td><td></td><td></td><td></td><td></td><td></td><td></td><td></td><td></td><td></td><td></td></tr> <tr><td></td><td></td><td></td><td></td><td></td><td></td><td></td><td></td><td></td><td></td><td></td><td></td><td></td><td></td><td></td><td></td><td></td><td></td><td></td><td></td><td></td><td></td><td></td><td></td><td></td><td></td></tr> <tr><td></td><td></td><td></td><td></td><td></td><td></td><td></td><td></td><td></td><td></td><td></td><td></td><td></td><td></td><td></td><td></td><td></td><td></td><td></td><td></td><td></td><td></td><td></td><td></td><td></td><td></td></tr> <tr><td></td><td></td><td></td><td></td><td></td><td></td><td></td><td></td><td></td><td></td><td></td><td></td><td></td><td></td><td></td><td></td><td></td><td></td><td></td><td></td><td></td><td></td><td></td><td></td><td></td><td></td></tr> </table> <p>Ответ (краткий):</p>																																																																																																																																																																																																																	L012 L0123 L0123 L0123 L01
12.	<p>Алина обшила платок кружевной лентой. Платок имеет форму квадрата со стороной 15 см. Вычисли длину использованной ленты.</p> <table border="1" style="width: 100%; height: 20px;"> <tr><td></td><td></td><td></td><td></td><td></td><td></td><td></td><td></td><td></td><td></td><td></td><td></td><td></td><td></td><td></td><td></td><td></td><td></td><td></td><td></td><td></td><td></td><td></td><td></td><td></td><td></td><td></td></tr> </table> <p>Ответ: <input style="width: 30px;" type="text"/> см.</p>																												L012																																																																																																																																																																																					
13.	<p>В информации, приведённой ниже, говорится о покупке открыток по одинаковой цене. Впиши в рамку соответствующее число.</p> <p style="text-align: center;"><i>Стоимость 5 открыток – 60 леев. Стоимость <input style="width: 20px;" type="text"/> открыток – 120 леев.</i></p>	L03																																																																																																																																																																																																																
14.	<p>Дополни задачу так, чтобы она решалась следующими двумя действиями: 1) деление; 2) вычитание.</p> <p>Условие задачи: <i>В саду растут 18 яблоневого деревьев, вишнёвых деревьев, чем яблоневых, а черешневых, чем вишнёвых.</i></p> <p>Вопрос задачи:</p>	L012 L012 L01																																																																																																																																																																																																																